



موقع اجاباتكم

Google

للمزيد اكتب  
في جوجل



موقع اجاباتكم

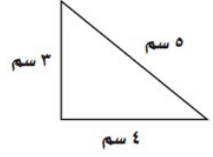


موقع اجاباتكم التعليمي يوفر كل ما يحتاجه الطالب  
والمعلم من حلول الكتب توزيع المنهج. اختبارات  
نهائية وفترية ملخصات. أوراق عمل والكثير .....

للعام الدراسي ١٤٤٧ هـ / ٢٠٢٦ م


اسم الطالب

الصف

لسؤال الأول اختر الإجابة الصحيحة من بين الإجابات المعطاة في كل مما يلي :- ( درجة واحدة لكل فقرة )

١	أفضل تقدير لطول ملعقة الطعام		
أ	١٣ سم	ب	١٣ م
ج	١٣ ملم	د	١٣ كلم
٢	محيط المثلث المجاور = ..... سم		
			
أ	١٠ سم	ب	١١ سم
ج	١٢ سم	د	١٤ سم
٣	مساحة الشكل المجاور = ..... وحدات مربعة		
			
أ	مربعة	ب	١٢ وحدة مربعة
ج	مربعة	د	١٦ وحدة مربعة
٤	الزمن الذي تشير إليه الساعة المجاورة هو .....		
			
أ	٨:١٧	ب	٨:٣٧
ج	٩:١٧	د	٩:٢٧

حجم الجسم المجاور = ..... وحدات مكعبة



أ	٤	ب	٦
---	---	---	---

ج	٨	د	١٠
٦	المجسم الذي يمكن تكوينه من ٤ مثلثات ومربع يسمى .....		
أ	المكعب	ب	الكرة
ج	المخروط	د	الهرم الرباعي
٧	يتكرر في نمط مربع ودائرتان فما هو الشكل الخامس عشر في النمط ؟		
أ	مستطيل	ب	شبه منحرف
ج	مربع	د	دائرة
٨	المضلع الذي عدد أضلاعه أقل من المضلع الرباعي هو .....		
أ	المربع	أ	السداسي
ج	الخماسي	ج	المثلث
٩	طريقة جمع البيانات عند طرح سؤال أو مجموعة أسئلة تسمى		
أ	التمثيل بالأعمدة	ب	لوحة الإشارات
ج	التمثيل بالرموز	د	المسح
١٠	باستعمال التمثيل بالأعمدة المجاور ما هي المدينة الأكثر تفضيلاً ؟		
	 <p>المُدُن المفضَّلة لِقضاءِ الإجازة</p> <p>عدد الأشخاص</p> <p>المدينة</p>		
أ	جدة	ب	مكة
ج	الدمام	د	أبها

السؤال الثاني ١ - استخدم التمثيل بالرموز أدناه للإجابة عن الأسئلة المطلوبة :- ( لكل فقرة درجة )

عدد الطيور التي شوهدت	الأسبوع
☞	١
☞☞☞☞	٢
☞☞☞	٣
☞☞☞	٤

مفتاح: ☞ = ٣ طيور

أ- في أي أسبوع كان عدد الطيور التي شوهدت أكبر ما يمكن ؟

.....

ب- ما عدد الطيور التي شوهدت خلال الأسابيع الأربعة ؟

.....


٢ - يركض أحمد لمدة ساعة يوميًا ثم يستريح لمدة ساعة وأخيرًا يذاكر لمدة ساعتين فإذا أنهى أحمد المذاكرة الساعة السابعة مساءً ففي أي ساعة بدأ المذاكرة ؟

.....  
..


السؤال الثالث ضع علامة ( صح ) أمام العبارة الصحيحة وعلامة ( خطأ ) أمام العبارة غير الصحيحة

( لكل


فقرة درجة)

١	الزمن الذي هو ١٠:٠٣		تشير إليه ساعة العقارب المجاورة
٢	التقدير الأنسب لسعة زجاجة الدواء يكون باستخدام وحدة المليتر		
٣	الشكل المجاور له محورا تماثل		
٤	البيانات التي نحصل عليها من عملية جمع البيانات يمكن تمثيلها بلوحة إشارات		

السؤال الرابع أجب عن الأسئلة التالية ( لكل فقرة نصف درجة)

١	اسم الجسم .....	
	عدد الرؤوس .....	
	عدد الأحرف .....	
	عدد الأوجه .....	
٢	اسم المضلع .....	
	عدد الأضلاع .....	

للمزيد من الاختبارات اضغط هنا

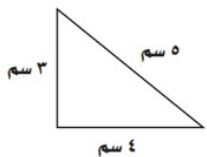
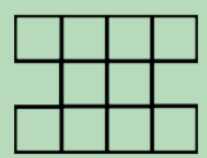




اسم الطالب	الصف
لسؤال الأول اختر الإجابة الصحيحة من بين الإجابات المعطاة في كل مما يلي :- ( درجة واحدة لكل فقرة )	
أ	أفضل تقدير لطول ملعقة الطعام ١٣ سم
ب	١٣ م
ج	١٣ ملم
د	١٣ كلم

اجاباتكم

موقع



محيط المثلث المجاور = ..... سم				٢
١١ سم	ب	١٠ سم		أ
١٤ سم	د	١٢ سم		ج
مساحة الشكل المجاور = ..... وحدات مربعة				٣
١٢ وحدة مربعة	ب	مربعة		أ
١٦ وحدة مربعة	د	مربعة		ج
الزمن الذي تشير إليه الساعة المجاورة هو .....				٤
٨:٣٧	ب	٨:١٧		أ
٩:٢٧	د	٩:١٧		ج

حجم المجسم المجاور = ..... وحدات مكعبة				٥
٦	ب	٤		أ
١٠	د	٨		ج
المجسم الذي يمكن تكوينه من ٤ مثلثات ومربع يسمى .....				٦
الكرة	ب	المكعب		أ
الهرم الرباعي	د	المخروط		ج
يتكرر في نمط مربع ودائرتان فما هو الشكل الخامس عشر في النمط ؟				٧
شبه منحرف	ب	مستطيل		أ
دائرة	د	مربع		ج
المضلع الذي عدد أضلاعه أقل من المضلع الرباعي هو .....				٨

السداسي	أ	المربع	أ
المثلث	ج	الخماسي	ج
طريقة جمع البيانات عند طرح سؤال أو مجموعة أسئلة تسمى			
لوحة الإشارات	ب	التمثيل بالأعمدة	أ
المسح	د	التمثيل بالرموز	ج
باستعمال التمثيل بالأعمدة المجاور ما هي المدينة الأكثر تفضيلاً ؟			١٠
مكة	ب	جدة	أ
أبها	د	الدمام	ج

السؤال الثاني ١ - استخدم التمثيل بالرموز أدناه للإجابة عن الأسئلة المطلوبة : ( لكل فقرة درجة )

عدد الطيور التي شوهدت	الأسبوع
☺	١
☺☺☺☺	٢
☺☺☺	٣
☺☺☺	٤

مفتاح: ☺ = ٣ طيور

أ- في أي أسبوع كان عدد الطيور التي شوهدت أكبر ما يمكن ؟

الأسبوع الثاني

ب- ما عدد الطيور التي شوهدت خلال الأسابيع الأربعة ؟

٣٣ طائر



٢ - يركض أحمد لمدة ساعة يوميًا ثم يستريح لمدة ساعة وأخيرًا يذاكر لمدة ساعتين فإذا أنهى أحمد المذاكرة الساعة السابعة مساءً ففي أي ساعة بدأ المذاكرة ؟

الساعة الثالثة مساءً


السؤال الثالث ضع علامة ( صح ) أمام العبارة الصحيحة وعلامة ( خطأ ) أمام العبارة غير الصحيحة

( لكل

فقرة درجة)

خطأ	تشير إليه ساعة العقارب المجاورة		الزمن الذي هو ١٠:٠٣	١
صح	التقدير الأنسب لسعة زجاجة الدواء يكون باستخدام وحدة المليتر			٢
صح	الشكل المجاور له محورا تماثل			٣
صح	البيانات التي نحصل عليها من عملية جمع البيانات يمكن تمثيلها بلوحة إشارات			٤

السؤال الرابع أجب عن الأسئلة التالية ( لكل فقرة نصف درجة )

	١ اسم الجسم المكعب عدد الرؤوس ٨ عدد الأحرف ١٢ عدد الأوجه ٦
	٢ اسم المضلع خماسي عدد الأضلاع ٥

