



**موقع اجاباتكم**

**Google**

للمزيد اكتب  
في جوجل



موقع اجاباتكم

**موقع اجاباتكم التعليمي يوفر كل ما يحتاجه الطالب  
والمعلم من حلول الكتب توزيع المنهج. اختبارات  
نهائية وفترية ملخصات. أوراق عمل والكثير ....**

## القسم الأول: الرياضيات

الأسئلة : ١ - ٨

الزمن: ١٦ دقيقة

### تعليمات

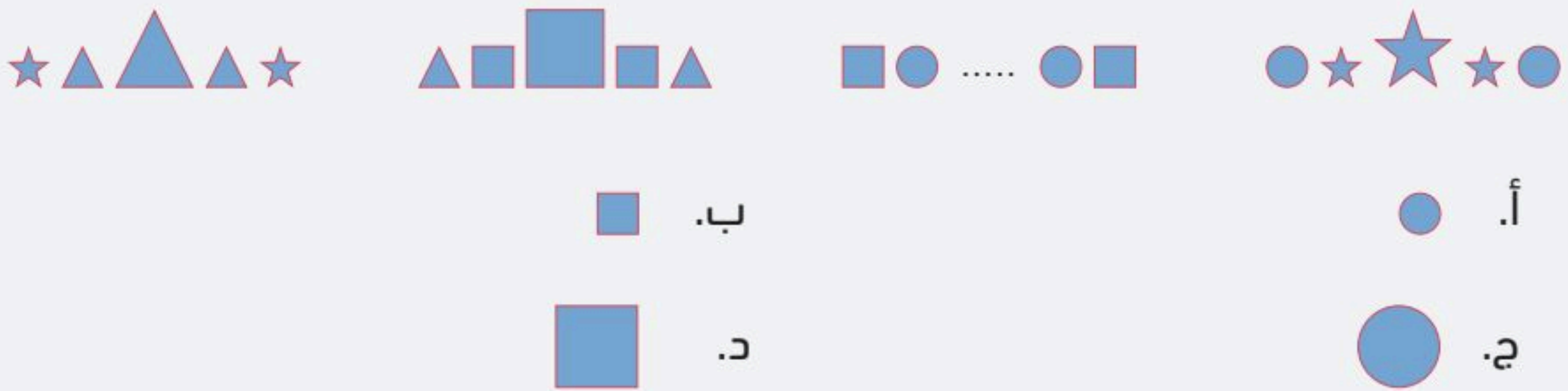
- تحت كل سؤال أربعة خيارات، من بينها إجابة صحيحة واحدة فقط.
- اقرأ السؤال بهدوء، ثم اختر الإجابة التي ترى أنها صحيحة.
- حاول الإجابة على جميع الأسئلة، وعدم ترك أي سؤال دون إجابة.



١ أي خطوط الأعداد التالية يمثل الكسر الدال على عدد النوافذ المفتوحة في الشكل أدناه؟



٢ حسب النمط أدناه، أي الأشكال التالية يحل مكان الفراغ؟



٣ رسم خالد شكلاً هندسياً له رأس واحد وليس له أحرف؛ أي مما يلي يمثل الشكل الذي رسمه؟

- أ. الهرم  
ب. المخروط  
ج. المكعب  
د. الأسطوانة

٤ ما العدد المفقود الذي يُحقّق ناتج عمليّة الجمع؟

٤	١	١
٣	٢	٢
+		
٨	٨	٨


أ. ب. ج. د.

أ. ب. ج.

0 كان لدى خالد ١٠ عُلب، احتفظ بعُلبتين، ثم وزَّع ما تبقى بالتساوي على ٤ أصدقاء. كم علباً أخذ كل واحد منهم؟

- أ. ٥  
ب. ٤  
ج. ٣  
د. ٢

1 أي من العبارات التالية صحيحة عن المستطيلين الملونين؟



- أ. لهما المحيط نفسه.  
ب. لهما المساحة نفسها.  
ج. محيط المستطيل (١) أكبر من محيط المستطيل (٢).  
د. مساحة المستطيل (١) أكبر من مساحة المستطيل (٢).

٧ إذا كانت مدة حصة الرياضيات ٥٠ دقيقة، وبدأت الحصة في الساعة ٨:١٥ فإن الحصة تنتهي عند الساعة:

- أ. ٩:٠٠  
ب. ٩:٠٥  
ج. ٩:١٥  
د. ٩:٥٠

٨ إذا باع ماجد ٤٥ قميصاً في اليوم الثالث، فأى مما يلي يكمل الجدول أدناه؟

عدّد القمصان التي باعها ماجد خلال ثلاثة أيام	
اليوم الأول	
اليوم الثاني	
اليوم الثالث	
المفتاح:  = ١٠ قمصان	

- أ.   
ب.   
ج.   
د.

## القسم الثاني: القراءة

الأسئلة : ٩ - ١٢

الزمن: ١٦ دقيقة

### تعليمات

- اقرأ القطعة كاملة قبل البدء بالإجابة.
- تحت كل سؤال أربعة خيارات، من بينها إجابة صحيحة واحدة فقط.
- اقرأ الأسئلة بهدوء، ثم اختر الإجابة التي ترى أنها صحيحة.
- حاول الإجابة على جميع الأسئلة، وعدم ترك أي سؤال دون إجابة.

٩ «حَلَّقَ الطَّائِرُ فِي السَّمَاءِ» ضد كلمة (حَلَّقَ) في الجملة السابقة؟

- أ. أَسْرَعَ  
ب. ارْتَفَعَ  
ج. اخْتَفَى  
د. هَبَطَ

١٠ «يحدث هذا الأمر بلمح البصر». أي الجمل التالية تحمل نفس معنى عبارة «بلمح البصر»؟

- أ. ببطءٍ وتمهلٍ  
ب. بحركةٍ معتدلةٍ  
ج. بسرعة البرق  
د. بترددٍ وتأنٍ

يُعَدُّ الطَّائِرُ ذُو المِنْقَارِ الأَحْمَرِ مِنْ الطُّيُورِ الأَكْثَرِ شُيُوعًا فِي العَالَمِ، حَيْثُ يَصِلُ تَعْدَادُهُ إِلَى مَلَائِينَ الطُّيُورِ، مُحْتَلًا المُرْتَبَةَ الثَّانِيَةَ بَعْدَ الدَّجَاجِ المَنْزَلِيِّ. يَتَمَيَّزُ هَذَا الطَّائِرُ بِنِظَامِهِ الغِذَائِيِّ الَّذِي يَعْتَمِدُ بِشَكْلِ أَسَاسِيٍّ عَلَى الحُبُوبِ والبُذُورِ، مِثْلِ الأَرزِ والأَعْشَابِ. كَمَا يُعْرَفُ بِسُلُوكِهِ الاجْتِمَاعِيِّ، حَيْثُ يَعِيشُ فِي أَسْرَابٍ ضَخْمَةٍ تَضُمُّ مَلَائِينَ الطُّيُورِ، وَعَادَةً مَا تَتَغَذَّى هَذِهِ الأَسْرَابُ عَلَى الحُبُوبِ المُنْتَشِرَةِ عَلَى الأَرْضِ.



يُعَدُّ الطَّائِرُ ذُو المِنْقَارِ الأَحْمَرِ مِنْ الطُّيُورِ صَغِيرَةِ الحَجْمِ، حَيْثُ يَتَرَاوَجُ طَوْلُهُ بَيْنَ ١٢-١٥ سَنْتِمِتَرًا، وَيَتَمَيَّزُ بِمِنْقَارِهِ الأَحْمَرِ القَصِيرِ، وَرِيشِهِ الرَّمَادِيِّ أَوْ البُنِّيِّ. وَيَنْتَشِرُ فِي مُعْظَمِ أَنْحَاءِ إفريقيا، حَيْثُ يُوجَدُ بِكَثْرَةٍ فِي المَنَاطِقِ الإِسْتَوَائِيَّةِ وَشِبْهِ الإِسْتَوَائِيَّةِ، وَيَعِيشُ فِي مُسْتَعْمَرَاتٍ كَبِيرَةٍ، وَقَدْ يَصِلُ عَدَدُ الأَعْشَاشِ فِي المُسْتَعْمَرَةِ الوَاحِدَةِ إِلَى الأَلْفِ.

وَيُعْرَفُ هَذَا الطَّائِرُ بِأَنَّهُ يُسَبِّبُ أَضْرَارًا جَسِيمَةً لِلْمَحَاصِيلِ؛ إِذْ يَتَغَذَّى عَلَى البُذُورِ وَيُدَمِّرُ الحُقُولَ، مِمَّا يَجْعَلُهُ آفَةً زَرَاعِيَّةً خَطِيرَةً.

١١ حسب النص، الطائر الأكثر انتشارًا في العالم هو:

- أ. الدجاج المنزلي  
ب. ذو المنقار الأحمر  
ج. الحمام الزاجل الأبيض  
د. النسر الأمريكي

١٢ العُنْوَانُ الْمُنَاسِبُ لِلنَّصِّ:

- أ. أَهْمِيَّةُ تَرْبِيَةِ الدَّجَاجِ الْمَنْزَلِيِّ  
ب. الطَّائِرُ ذُو الْمِنْقَارِ الْأَحْمَرِ  
ج. الْحَيَاةُ الْاجْتِمَاعِيَّةُ لِلطُّيُورِ  
د. أَهْمِيَّةُ الطُّيُورِ فِي آسِيَا

١٣ حَسَبَ النَّصِّ، مَا تَأْتِيْرُ الطَّائِرُ ذِي الْمِنْقَارِ الْأَحْمَرِ عَلَى الْمَحَاصِيلِ الزَّرَاعِيَّةِ؟

- أ. يُسَاعِدُ فِي تَلْقِيْحِ النَّبَاتَاتِ  
ب. يَسْتَهْلِكُ كَمِيَاتٍ كَبِيرَةً مِنَ الْمِيَاهِ  
ج. يَتَسَبَّبُ فِي أَضْرَارٍ كَبِيرَةٍ لِلْمَحَاصِيلِ  
د. يَتَغَذَّى عَلَى الْحَشْرَاتِ الضَّارَّةِ

**انتهى الاختبار**



### مفاتيح الإجابة

م	مفتاح الإجابة
١	ب
٢	ج
٣	أ
٤	أ
٥	د
٦	أ
٧	ب
٨	ج
٩	د
١٠	ج
١١	أ
١٢	ب
١٣	ج





## نموذج أسئلة تدريبية (ب)

# الاختبارات الوطنية (نافس)

الصف الثالث الابتدائي

٢٠٢٦



## القسم الأول: الرياضيات

الأسئلة : ١ - ٨

الزمن: ١٦ دقيقة

### تعليمات

- تحت كل سؤال أربعة خيارات، من بينها إجابة صحيحة واحدة فقط.
- اقرأ السؤال بهدوء، ثم اختر الإجابة التي ترى أنها صحيحة.
- حاول الإجابة على جميع الأسئلة، وعدم ترك أي سؤال دون إجابة.



١ في إحدى المدارس الابتدائية، يبدأ الطابور الصباحي في الساعة ٦:٤٥ صباحًا، وتستمر الإذاعة والنشاط البدني لمدة ٢٠ دقيقة. في أي ساعة تنتهي هذه الأنشطة؟



ب.



أ.



د.



ج.

٢ يوضح الشكل المجاور ثمن لوحة اشترتها ليلي من السوق. إذا أعطت البائع ورقتين من فئة ٥ ريال، فكم ريالًا سيعيدُ إليها؟



٧ ريال

ب. ٣

أ. ٢

د. ٥

ج. ٤

٣ قرّر هشام وناصر أن يشتريا حقيبتين، فاختار هشام الحقيبة ذات العدد الأكبر، واختار ناصر الحقيبة ذات العدد الأصغر، فمهما الحقيبتان؟



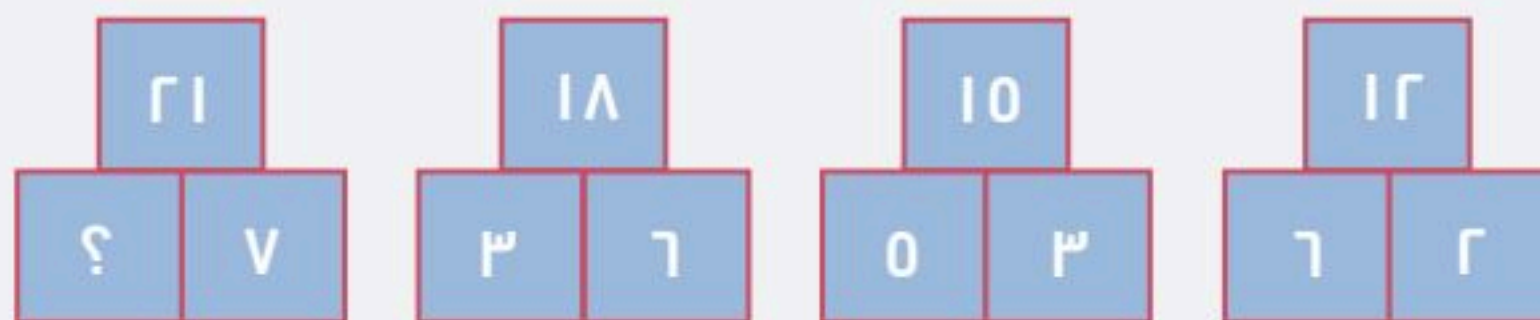
أ. الزرقاء و الخضراء

ب. الصفراء و الخضراء

ج. الحمراء و الزرقاء

د. الصفراء و الحمراء

٤ ما العدد المناسب الذي يحل محل علامة الاستفهام في الشكل أدناه؟



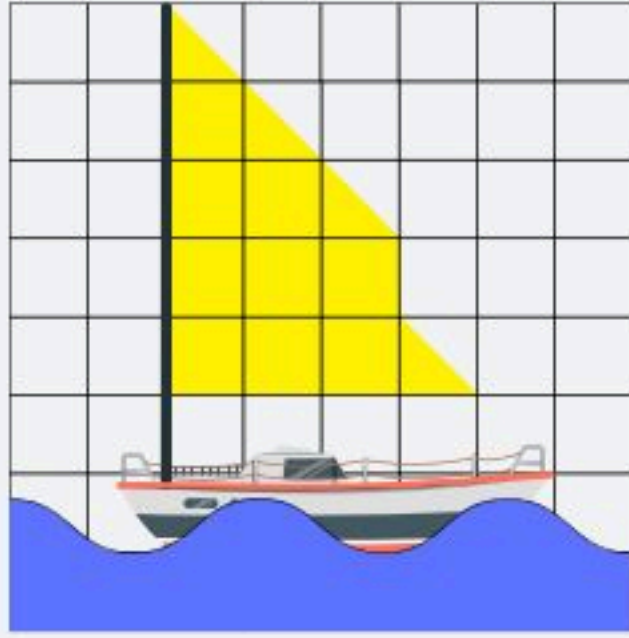
ب. ٥

أ. ٦

د. ٢

ج. ٣

٥ رَسَمْتُ مَنَالُ الْقَارِبِ الشَّرَاعِيَّ الْمَبِينَّ فِي الشُّكْلِ أدناه، وَلَوْنَتْ شِرَاعَهُ بِاللَّوْنِ الْأَصْفَرِ، كَمْ مَسَاحَةَ الشَّرَاعِ بِالوَحَدَاتِ الْمَرْبَعَةِ؟



أ. ١٣

ب. ١١

ج. ٩

د. ٨

٦ التَّقَطْ بَدْرٌ وَفَهْدٌ مَجْمُوعَةً مِنَ الصُّورِ كَمَا هُوَ مُوَضَّحٌ فِي الْجَدْوْلِ أدناه. مَا الْفَرْقُ فِي عَدَدِ الصُّورِ الَّتِي التَّقَطَّهَا بَدْرٌ مَقَارَنَةً بِعَدَدِ الصُّورِ الَّتِي التَّقَطَّهَا فَهْدٌ؟

عدد الصور	الطالب
١٢٦	بدر
١١٢	فهد

ب. ١٤

د. ٣٨

أ. ١٢

ج. ٢٦

٧ فِي الشُّكْلِ أدناه، تَوَجَّدَ أَعْمِدَةٌ إِنْارَةٌ بَعْضُهَا يَحْتَوِي عَلَى مِصْبَاحٍ وَاحِدٍ وَبَعْضُ الْآخَرِ عَلَى مِصْبَاحَيْنِ. أَيُّ الْعِبَارَاتِ الْعَدَدِيَّةِ التَّالِيَةِ تُعَبِّرُ عَنْ عَدَدِ الْمِصْبَاحِ؟

أ.  $٢ \times ٧$ ب.  $٢ \times (٣ + ٤)$ ج.  $(٢ \times ٤) + (٢ \times ٣)$ د.  $(١ \times ٣) + (٢ \times ٤)$ 

٨ من خلال التمثيل البياني، أَيُّ الطيورِ أَقَلُّ عَدَدًا؟

أ. العصفير

ب. البط

ج. الدجاج

د. الحمام

## القسم الثاني: القراءة

الأسئلة : ٩ - ١٤

الزمن: ١٦ دقيقة

### تعليمات

- اقرأ القطعة كاملة قبل البدء بالإجابة.
- تحت كل سؤال أربعة خيارات، من بينها إجابة صحيحة واحدة فقط.
- اقرأ الأسئلة بهدوء، ثم اختر الإجابة التي ترى أنها صحيحة.
- حاول الإجابة على جميع الأسئلة، وعدم ترك أي سؤال دون إجابة.

## ٩ ضدّ كَلِمَة «أَضْرَارُ»:

- أ. خَسَائِر  
ب. مَنَافِع  
ج. فَضَائِل  
د. مَخَاطِر

الهَاتِفُ المَحْمُولُ، ذَلِكَ الجِهَازُ الصَّغِيرُ الَّذِي نَسْتَحْدِمُهُ كُلَّ يَوْمٍ، هُوَ أَكْثَرُ مِنْ مُجَرَّدِ جِهَازٍ لِجَرَائِ المُكَالِمَاتِ. إِنَّهُ نَافِذَةٌ عَلَى العَالَمِ! لَكِنْ هَلْ تَسَاءَلْتَ يَوْمًا كَيْفَ يَعمَلُ؟ عِنْدَمَا تَتَحَدَّثُ إِلَى صَدِيقِكَ عَبْرَ هَاتِفِكَ المَحْمُولِ. فَإِنَّ صَوْتَكَ يَتَحَوَّلُ إِلَى إِشَارَاتٍ رَقْمِيَّةٍ، مِثْلَ رُمُوزِ سِرِّيَّةٍ، ثُمَّ تُرْسَلُ عَبْرَ مَوَجَاتٍ لِاسْلُكِيَّةٍ إِلَى بُرْجٍ قَرِيبٍ.



يُشْبِهُ هَذَا البُرْجَ عَمَلَ البَرِيدِ، حَيْثُ يَسْتَقْبِلُ الرِّسَالَةَ وَيُحَلِّلُ عُنْوَانَهَا، ثُمَّ يُرْسِلُهَا إِلَى بُرْجٍ آخَرَ أَقْرَبَ إِلَى صَدِيقِكَ. تَسْتَمِرُّ الرِّسَالَةُ فِي التَّنَقُّلِ بَيْنَ الأَبْرَاجِ حَتَّى تَصِلَ إِلَى هَاتِفِ صَدِيقِكَ. عِنْدَهَا، تَتَحَوَّلُ الإِشَارَاتُ الرَقْمِيَّةُ مَرَّةً أُخْرَى إِلَى صَوْتٍ، وَيَسْمَعُ صَدِيقُكَ صَوْتَكَ!

كُلُّ هَذَا يَحْدُثُ بِسُرْعَةِ البَرَقِ، بِفَضْلِ تَقْنِيَّاتٍ مِثْلِ التَّشْفِيرِ لِحِمَايَةِ مُكَالِمَاتِنَا، وَتَعَدُّدِ الإِرسَالِ لِتَمَكِينِ الكَثِيرِينَ مِنْ اسْتِخْدَامِ الأَبْرَاجِ فِي الوَقْتِ نَفْسِهِ، وَالتَّنَقُّلِ لِضَمَانِ اسْتِمْرَارِ المُكَالِمَةِ أَثْنَاءَ الحَرَكَةِ.

الهَاتِفُ المَحْمُولُ لَيْسَ مُجَرَّدَ أَدَاةٍ لِلتَّوَاصُلِ، بَلْ هُوَ مَرَكَزٌ لِلمَعْلُومَاتِ وَالتَّرْفِيهِ، يَرِيبُنَا بِالعَالَمِ بِأسْرِهِ!

## ١٠ حَسَبِ النَّصِّ، مُرَادِفُ كَلِمَةِ «المَحْمُولُ»:

- أ. الثَّابِتُ  
ب. السَّرِيعُ  
ج. المَتَنَقِّلُ  
د. الثَّقِيلُ

## ١١ مَا العُنْوَانُ المُنَاسِبُ للنِّصِّ مِمَّا يَلِي؟

- أ. لِمَاذَا الهَوَاتِفُ المَحْمُولَةُ مُهِمَّةٌ؟  
ب. كَيْفَ تَعمَلُ الهَوَاتِفُ المَحْمُولَةُ؟  
ج. مَا أَضْرَارُ الهَوَاتِفِ المَحْمُولَةِ؟  
د. مَتَى اخْتُرَتِ الهَوَاتِفُ المَحْمُولَةُ؟

١٢ حَسَبَ النَّصِّ، أَيُّ مِمَّا يَلِي تَحْتَاجُهُ لِإِجْرَاءِ مُكَالِمَةِ هَاتِفِيَّةٍ؟

- أ. صَوْتُ عَالٍ وَوَاضِحٌ فِي مَكَانٍ هَادِئٍ
- ب. شَبَكَةٌ مِنَ الْأَسْلَاقِ الْمُمْتَدَّةِ بَيْنَ الْمَنَازِلِ
- ج. مَجْمُوعَةٌ مِنَ التَّقْنِيَّاتِ الَّتِي تَحْمِي الْبَيِّنَاتِ
- د. أَبْرَاجُ اتِّصَالٍ قَرِيبَةٌ تُرْسِلُ وَتَسْتَقْبِلُ الْإِشَارَاتِ

١٣ حَسَبَ النَّصِّ، فَإِنَّ جُمْلَةَ: «يُرْبِطُنَا بِالْعَالَمِ بِأَسْرِهِ!» تَدُلُّ عَلَى أَنَّ الْهَوَاتِفَ الْمَحْمُولَةَ:

- أ. تُقَرِّبُ الْمَسَافَاتِ
- ب. تُبْعِدُ الْمَسَافَاتِ
- ج. أَدَاةٌ ثَمِينَةٌ
- د. غَيْرُ آمِنَةٍ

**انتهى الاختبار**



### مفاتيح الإجابة

مفتاح الإجابة	م
ب	١
ب	٢
أ	٣
ج	٤
ب	٥
ب	٦
د	٧
ج	٨
ب	٩
ج	١٠
ب	١١
د	١٢
أ	١٣

